

Рис. 1

1). Так как $MN \parallel BC$, то $\triangle AMP \sim \triangle ABC$, $\triangle DQN \sim \triangle DBC$ и $AM : AB = DN : DC$. Поэтому $\frac{MP}{BC} = \frac{AM}{AB} = \frac{DN}{DC} = \frac{QN}{BC}$. Отсюда $MP = QN$.

Задача 2. В трапеции $ABCD$ с основаниями $AD = a$ и $BC = b$ через точку O пересечения диагоналей проведена прямая, параллельная основаниям. Эта прямая пересекает боковые стороны в точках M и N . Найдите длину отрезка MN .

Решение (см. рис.2). Так же, как в задаче 1, получаем, что $MO = ON$. Так как $BC \parallel AD$, то $\triangle OBC \sim \triangle ODA$ (из

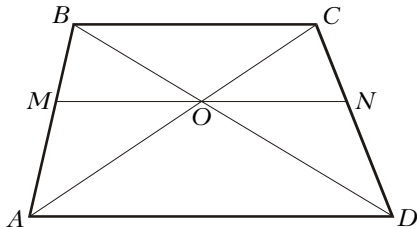


Рис. 2

равенства углов). Отсюда $\frac{BO}{OD} = \frac{BC}{AD} = \frac{b}{a}$ и $\frac{BO}{BD} = \frac{b}{a+b}$. Так как $MN \parallel AD$, то $\triangle BMO \sim \triangle BAD$. Поэтому $\frac{MO}{AD} = \frac{BO}{BD} = \frac{b}{a+b}$ и $MO = \frac{b}{a+b} AD = \frac{ab}{a+b}$. Поскольку $MO = ON$, то $MN = \frac{2ab}{a+b}$.

Ответ: $MN = \frac{2ab}{a+b}$.

Следующая задача выражает очень важное утверждение о трапециях.

Задача 3. Докажите, что середины оснований, точка O пересечения диагоналей и точка F пересечения боковых сторон трапеции лежат на одной прямой.

Решение. Пусть прямая FO пересекает основания трапеции в точках M и N (рис.3). Так как $\triangle FBM \sim \triangle FAN$, $\triangle FMC \sim \triangle FND$, $\triangle OBM \sim \triangle ODN$, $\triangle OMC \sim \triangle ONA$, то $\frac{BM}{AN} = \frac{FM}{FN} =$

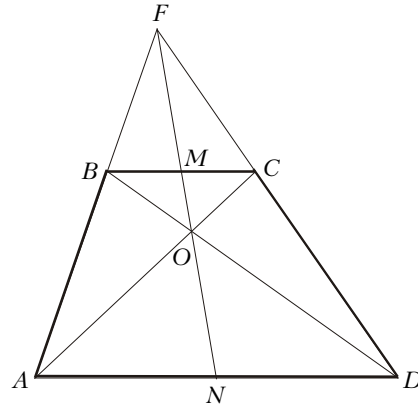


Рис. 3

$= \frac{MC}{ND}$ и $\frac{BM}{ND} = \frac{MO}{ON} = \frac{MC}{AN}$. Отсюда $\frac{BM}{MC} = \frac{AN}{ND}$ и $\frac{BM}{MC} = \frac{ND}{AN}$. Тогда $\frac{AN}{ND} = \frac{ND}{AN}$, и $AN = ND$. Но тогда и $BM = MC$.

Дополнительные построения в трапециях

Обычно трудности у школьников вызывает выбор тех дополнительных построений, которые помогают решить задачу. Для трапеции имеется ряд стандартных дополнительных построений. Отметим те, которые наиболее часто используются при решении задач: 1) опускание высот из концов одного основания на другое основание; 2) проведение через вершины трапеции прямой, параллельной боковой стороне, не содержащей эту вершину; 3) проведение через середину меньшего основания прямых, параллельных боковым сторонам; 4) проведение через вершину трапеции прямой, параллельной диагонали, не содержащей эту вершину; 5) продолжение боковых сторон до пересечения.

Дополнительное построение 1) позволяет разбить трапецию на прямоугольник (стороны которого – одно из оснований и высота трапеции) и 2 прямоугольных треугольника (в которых один из катетов – высота трапеции, а гипотенузы – боковые стороны трапеции). Это часто позволяет произвести нужные вычисления.

Дополнительное построение 2) порождает параллелограмм и треугольник. Это построение полезно, когда в образовавшемся треугольнике удастся получить 3 параметра.

Задача 4. Постройте трапецию $ABCD$ ($BC \parallel AD$) по четырем сторонам $AB = c$, $AD = b$, $BC = a$, $CD = d$ ($a < b$) и найдите ее высоту.

Решение. Допустим, что искомая трапеция $ABCD$ построена. Проведем

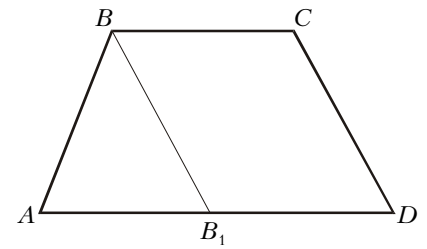


Рис. 4

$BB_1 \parallel CD$ (рис.4). Получим треугольник ABB_1 с известными сторонами $AB = c$, $BB_1 = CD = d$, $AB_1 = b - a$. Таким образом, по данным задачи можно построить треугольник ABB_1 , на луче AB_1 отложить отрезок $AD = b$, через точку B провести прямую, параллельную AD , и отложить на ней отрезок $BC = a$ (в нужную сторону). Высота h трапеции находится, например, из формулы $S = \frac{h(b-a)}{2}$ для площади треугольника ABB_1 , где площадь треугольника предварительно вычисляется по формуле Герона.

Ответ:

$$h = \frac{2}{b-a} \sqrt{p(p-c)(p-d)(p-b+a)},$$

$$\text{где } p = \frac{1}{2}(c+d+b-a).$$

Указанное построение заставляет «работать» боковые стороны, соединив их вместе в треугольнике ABB_1 . Дополнительное построение 3) очень близко к 2) и порождает такой же треугольник.

Задача 5. В трапеции сумма углов при одном из оснований равна 90° . Найдите длину отрезка, соединяющего середины оснований, если длина отрезка, соединяющего середины диагоналей, равна d .

Решение. Пусть в данной трапеции основания AD и BC ($AD > BC$) и пусть

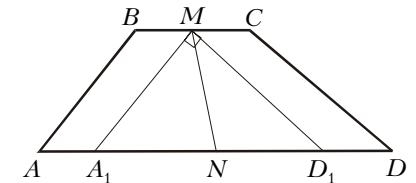


Рис. 5

M – середина стороны BC , N – середина стороны AD . Требуется найти длину MN (рис.5). Проведем из точки M прямые параллельно боковым сторонам до пересечения с основанием AD в точках A_1 и D_1 . Тогда сумма углов MA_1D_1 и MD_1A_1 равна 90° , т.е. треугольник MA_1D_1 является прямоугольным. Имеем $AA_1 = BM$ и $D_1D = MC$, поэтому $AA_1 = D_1D$ и $A_1N = ND_1$. Таким образом, MN – медиана