

# Пределы зоркости приборов

**А. СТАСЕНКО**

«МИСТЕР ЛУНД ПОДОШЕЛ К ТЕЛЕСКОПУ и начал смотреть на луну...

– А не видите ли вы бледных пятен, движущихся возле луны?..

– Черт возьми, сэр! Называйте меня ослом, если я не вижу этих пятен! Что это за пятна?

– Это пятна, которые видны в один только мой телескоп. Довольно! Оставьте телескоп!

...Через полчаса мистер Вильям Болваниус, Джон Лунд и шотландец Том Бекас летели уже к таинственным пятнам на восемнадцати аэростатах.

...Кто из читателей вспыхивает желанием ближе познакомиться с мистером Вильямом Болваниусом, тот пусть прочтет его замечательное сочинение «Существовала ли луна до потопа? Если существовала, то почему же и

она не утонула?»... Между прочим, там описывается, как он прожил два года в австралийских камышах, где питался раками, тинной, яйцами крокодилов и ... изобрел микроскоп, совер-

шенно сходный с нашим обыкновенным микроскопом...» (А.Чехов. «Летающие острова»).

Действительно, среди многочисленных приборов, изобретенных физиками, широкую известность получили телескоп и микроскоп. Один из них устремлен в глубины Вселенной, другой позволяет рассматривать всякую мелочь буквально «под носом». Обсудим вкратце, как они работают.

С точки зрения геометрической оптики, с *телескопом* все просто. Есть две соосные линзы с фокусными расстояниями  $F_{об}$  у объектива и  $F_{ок}$  у окуляра (рис.1). Лучи, идущие от каждой из двух рассматриваемых звезд –

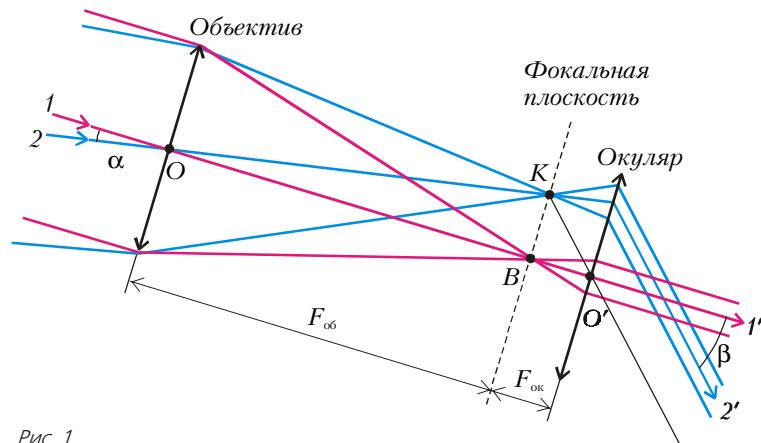


Рис. 1

направления 1 и 2, – почти параллельны и, по определению фокусного расстояния, после объектива они должны собраться в двух точках  $B$  и  $K$ , лежащих в фокальной плоскости объектива. Но в телескопической системе это одновременно и фокальная плоскость окуляра, поэтому, пройдя через окуляр, лучи должны выйти тоже двумя параллельными пучками с осями  $1'$  и  $2'$ . Угол между входящими лучами 1 и 2 (направлениями на две звезды) обозначим через  $\alpha$ , а угол между выходящими лучами – через  $\beta$ . Легко видеть, в чем «фокус» такой телескопической системы. Из прямоугольных треугольников  $OBK$  и  $O'BK$  видно, что их общий катет равен

$$BK = F_{об} \operatorname{tg} \alpha = F_{ок} \operatorname{tg} \beta,$$

откуда

$$\frac{\operatorname{tg} \beta}{\operatorname{tg} \alpha} = \frac{F_{об}}{F_{ок}} \approx \frac{\beta}{\alpha} \quad (1)$$

(последнее приближенное равенство записано для случая малых углов, который обычно и реализуется на практике).

Полученное соотношение открывает, казалось бы, неограниченные возможности для увеличения телескопа: нужно брать как можно более длиннофокусный объектив (вот почему оптические телескопы-рефракторы такие длинные) и как можно более короткофокусный окуляр. Но тут вмешивается еще один характерный размер – длина волны  $\lambda$ . Как же иначе? Ведь свет – это электромагнитные волны в диапазоне  $0,4 \text{ мкм} \lesssim \lambda \lesssim 0,8 \text{ мкм}$ . А любая волна, проходя около препятствия, дифрагирует. Более того, любой участок *первичной волны* (например, в плоскости объектива), согласно принципу Гюйгенса – Френеля, можно считать источником *вторичных* волн, которые затем интерферируют друг с другом всюду, где встретятся, например – в фокальной плоскости объектива.

Проведем при помощи этого принципа приближенное рассмотрение дифракции света (от одной звезды) на объективе телескопа. Разобьем объектив условно на две половины (рис. 2, а) и будем считать, что обе они являются источниками вторичных волн. Если принять расстояние между точками  $C$  и  $C'$  равным половине диаметра  $D$  объектива, то разность хода волн, прошедших от них в точку  $M$ , будет приблизительно равна (см. выделенный треугольник на рисунке 2, б)

$$\Delta = \frac{D}{2} \sin \theta.$$

И результат их интерференции будет определяться значением этой разности. Например, в точке  $B$  (да и на всей оптической оси  $OB$ ) имеем  $\theta = 0$  и  $\Delta = 0$ ; значит, эти две волны будут усиливать друг друга, так что в фокусе объектива (если туда поставить пластинку, перпендикулярную оптической оси) будет светлое пятно.

Можно уточнить этот результат, считая, что точки  $C$  и  $C'$  соответствуют центрам тяжести каждой из половин объектива. Нетрудно показать (например, сделав полукруг из картона и уравновесив его на лезвии ножа) или посмотреть в справочнике, что центр масс полукруга находится на высоте  $y_C = \frac{4}{3\pi} \frac{D}{2}$  над его диаметром. Значит, разность хода  $\Delta$  двух сферических волн, исходящих из точек  $C$  и  $C'$  под углом  $\theta$  к оптической оси, будет равна

$$\Delta = 2y_C \sin \theta = \frac{8}{3\pi} \frac{D}{2} \sin \theta. \quad (2)$$

Будем теперь перемещать вверх (или вниз) точку наблюдения в фокальной плоскости. Тогда угол  $\theta$  будет расти, а вместе с ним будет расти разность хода  $\Delta$ . Очень важно найти, при каком значении угла  $\theta_{1\min}$  эта разность хода станет равной  $\Delta_{1\min} = \frac{\lambda}{2}$ , так что

волны погасят друг друга. Из выражения (2) имеем

$$\sin \theta_{1\min} = \frac{3\pi}{8} \frac{\lambda}{D} = 1,18 \frac{\lambda}{D} \approx \theta_{1\min}.$$

Конечно, принцип Гюйгенса – Френеля предписывает складывать элементарные возмущения от малых площадок первичной волны (т.е. интегрировать). При этом нам пришлось бы иметь дело с так называемыми функциями Бесселя, которые в случае осевой симметрии являются аналогами «обычных» синусов и косинусов, характерных для одномерных задач (например, струны гитары). И тогда получился бы более точный результат:

$$\sin \theta_{1\min} = 1,22 \frac{\lambda}{D}. \quad (3)$$

Видно, что наше грубое рассмотрение всего лишь на четыре процента отличается от более точного – не так уж и плохо. Но почему для нас так важен этот угол? Потому что он дает радиус первого темного кольца  $BM = F_{об} \cdot \theta_{1\min}$ , окружающего светлое пятнышко – изображение звезды в фокальной плоскости объектива. Получается, что это вовсе не точка, как утверждает геометрическая оптика. Значит, вторая звезда с угловым расстоянием  $\alpha$  от оптической оси тоже даст светлое пятнышко в фокальной плоскости, и теперь все дело в том, насколько далеко оно окажется от изображения первой звезды. Великий Рэлей предложил простой критерий: должно быть

$$\alpha \gtrsim \theta_{1\min}, \quad (4)$$

иначе изображения двух звезд наложатся друг на друга уже в фокальной плоскости объектива и далее никакими ухищрениями их не разделить.

Но оторвемся от звезд и заглянем в *микроскоп*. Обычное построение изображений предмета в объективе и окуляре (в приближении тонких линз) дано на рисунке 3. Тут существенно,

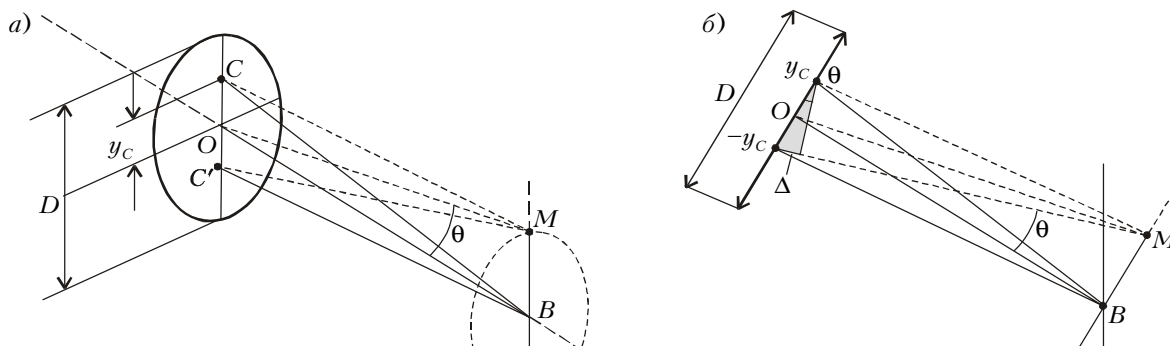


Рис. 2

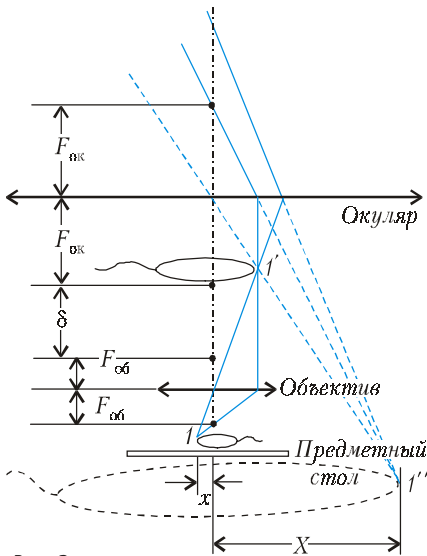


Рис. 3

чтобы предмет находился за фокусом объектива – тогда изображение \$I'\$ будет действительным, а это изображение чтобы находилось между окуляром и его фокусом – тогда окончательное изображение \$I''\$ будет мнимым.

Геометрическая оптика дает для увеличения микроскопа следующее выражение (см. рис.3):

$$\frac{X}{x} = \frac{D_0 \delta}{F_{ок} F_{об}},$$

где \$\delta\$ – расстояние между фокусами объектива и окуляра, \$D\_0\$ – так называемое расстояние наилучшего зрения. Увеличение микроскопа может быть значительным. Например, для характерных значений \$F\_{об} = 2\$ мм, \$F\_{ок} = 15\$ мм, \$\delta = 160\$ мм и \$D\_0 = 250\$ мм получим \$X/x = 1335\$.

Казалось бы, это не предел – надо лишь делать линзы все более совершенными геометрически (шлифовать), устранять их недостатки (апланатизм, астигматизм, хроматическую и сферическую аберрации, дисторсию...) и все

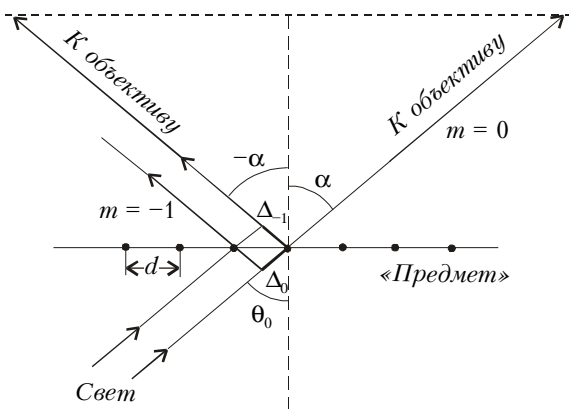


Рис. 4

будет в порядке. Но и тут вмешалась все та же \$\lambda\$!

Теорию разрешающей способности микроскопа разработал Аббе (о нем совсем недавно рассказывалось в «Кванте» – см. №1 за 2000 г.). Он предложил рассмотреть в микроскоп дифракционную решетку (рис.4). Какую минимальную информацию можно получить об этой решетке? Конечно, прежде всего можно узнать ее период \$d\$.

Как известно, при прохождении через решетку света с длиной волны \$\lambda\$ должен получиться набор дифракционных максимумов. Если свет падает на решетку под углом \$\theta\_0\$, то направление на эти максимумы определяется условием

$$\Delta_m - \Delta_0 = d \sin \theta_{m \max} - d \sin \theta_0 = m\lambda. \quad (5)$$

Чтобы микроскоп дал информацию о периоде \$d\$, в его объектив должны прийти по крайней мере два луча, соответствующих двум соседним максимумам дифракционной картины, например \$m = 0\$ и \$m = -1\$. Именно такой предельный случай \$\alpha = \theta\_0\$ и \$-\alpha = \theta\_{-1 \max}\$ изображен на рисунке 4. Заметим, что период решетки \$d\$, который мы стремимся рассмотреть, конечно, очень мал – порядка микрометров. В этом масштабе объектив микроскопа и его фокусное расстояние (порядка миллиметров) таковы, что сам объектив нужно было бы изобразить далеко за пределами рисунка (порядка метров); поэтому он показан штриховой линией лишь условно (а идущие к нему от узлов решетки лучи почти параллельны).

Итак, из условия (5) получим \$2d \sin \alpha = \lambda\$ (\$\alpha\$ называется апертурным углом). Значит, при заданной длине волны подсветки наименьший период решетки, который можно «рассмотреть» в микроскоп, равен \$d\_{\min} = \frac{\lambda}{2 \sin \alpha}\$.

Можно еще облегчить дело: если между решеткой и объективом поместить среду с коэффициентом преломления \$n\$ (например, капнуть какую-либо жидкость), то увеличится *оптическая разность хода* (ведь в этой среде скорость света и длина волны станут в \$n\$ раз меньше). В результате получим

$$d_{\min} = \frac{\lambda}{2n \sin \alpha}. \quad (6)$$

Теперь сравним разрешающие способности телескопа и микроскопа. Получается, что мы выдвигаем прямо противоположные требования:

для телескопа \$\frac{\lambda}{D} \approx \alpha\_{\min}\$ желательно

делать как можно меньше;

для микроскопа \$\frac{\lambda}{d} \approx 2n \sin \alpha\$ желательно

делать как можно больше.

Отсюда понятно стремление строить телескопы с возможно большим диаметром входного «зрачка», а микроскопы – с возможно меньшим фокусным расстоянием объектива (чтобы \$\sin \alpha\$ был как можно ближе к единице) и при этом пространство между объективом и предметом наблюдения следует заполнить жидкостью с возможно большим показателем преломления \$n\$ (так называемая *иммерсионная техника*).

Что же достигнуто человечеством?

Самый большой диаметр объектива оптического телескопа \$D \sim 6\$ м. Для «средней» длины волны света \$\lambda \sim 0,6\$ мкм из выражений (3) и (4) будем иметь \$\alpha\_{\min} \sim 10^{-7}\$. Принимая радиус Вселенной \$R \sim 10^{26}\$ м, для двух разрешимых точек на ее «границе» получим

$$l_{\min} \sim R \alpha_{\min} \sim 10^{19} \text{ м.}$$

В случае микроскопа положим \$\sin \alpha \le 1\$, \$n \approx 1,6\$ (коэффициент преломления анилина). Тогда из равенства (6) найдем

$$d_{\min} \gtrsim \frac{\lambda}{4} \sim 0,1 \text{ мкм} = 10^{-7} \text{ м.}$$

Таковы характерные пределы возможностей этих замечательных оптических приборов.