

(Начало см. на с.28)

высоты, биссектрисы и медианы, проведенных из вершины  $B$ . Известно, что углы  $ABN$ ,  $NBL$ ,  $LBM$ ,  $MBC$  равны. Найдите углы треугольника  $ABC$ .

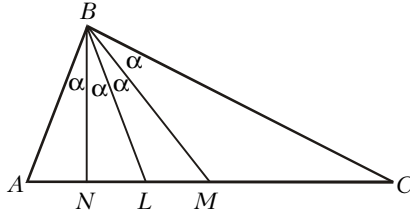


Рис. 12

**Первое решение (теорема синусов).**

Положим  $\alpha = \angle ABN$  (рис.12). Тогда

$$\angle BAC = \frac{\pi}{2} - \alpha$$

и

$$\angle BCA = \frac{\pi}{2} - 3\alpha.$$

По теореме синусов имеем

$$BM = \frac{AM \sin\left(\frac{\pi}{2} - \alpha\right)}{\sin 3\alpha} = \frac{AM \cos \alpha}{\sin 3\alpha},$$

$$BM = \frac{CM \sin\left(\frac{\pi}{2} - 3\alpha\right)}{\sin \alpha} = \frac{CM \cos 3\alpha}{\sin \alpha}.$$

Так как  $AM = CM$ , то

$$\frac{\cos \alpha}{\sin 3\alpha} = \frac{\cos 3\alpha}{\sin \alpha}.$$

Отсюда  $\sin \alpha \cdot \cos \alpha = \sin 3\alpha \cdot \cos 3\alpha$ , или  $\sin 2\alpha = \sin 6\alpha$ .

Так как  $0 < \alpha < \frac{\pi}{4}$ , то получаем, что

$$\alpha = \frac{\pi}{8}. \text{ Поэтому } \angle A = \frac{3\pi}{8}, \angle B = \frac{\pi}{2}, \angle C = \frac{\pi}{8}.$$

**Второе решение (описанная окружность).** Пусть  $O$  – центр описанной около треугольника  $ABC$  окружности и  $BD$  – диаметр этой окружности. Так как  $\angle BAC = \angle BDC$ , то  $\angle ABN = \angle CBO$ . Следовательно, лучи  $BM$  и  $BO$  совпадают. Если  $O \neq M$ , то, так как отрезок  $OM$  перпендикулярен  $AC$ , медиана  $BM$  в этом случае совпадает с высотой  $BN$ , в противоречии с условием задачи. Итак,  $O = M$  и угол  $B$  – прямой. Но тогда  $\angle ABN = \frac{\pi}{8}$ ,  $\angle BAC = \frac{3\pi}{8}$  и  $\angle BCA = \frac{\pi}{8}$ .

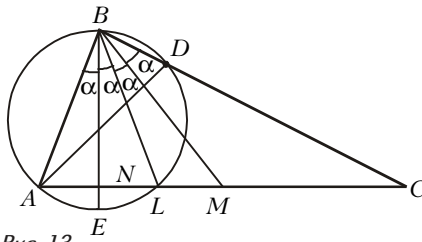


Рис. 13

**Третье решение (два диаметра).**

Проведем окружность через точки  $A, B, L$  (рис.13). Центр этой окружности  $O$  лежит на луче  $BN$ . Пусть  $BE$  – диаметр этой окружности,  $D$  – точка пересечения окружности со стороной  $BC$ . Так как

$$\angle BAD = \angle BED = \frac{\pi}{2} - 3\alpha = \angle BCA,$$

то треугольники  $DBA$  и  $ABC$  подобны. Следовательно, они делятся одинаковым образом тремя линиями, исходящими из вершины  $B$ . Поэтому точка  $X$  пересечения отрезков  $BE$  и  $AD$  должна быть серединой отрезка  $AD$ . Итак, диаметр  $BE$  делит хорду  $AD$  пополам. А это возможно лишь в следующих двух случаях: либо диаметр и хорда перпендикулярны (что явно не выполняется в нашей ситуации), либо хорда сама является диаметром и точка пересечения – центр окружности. Итак,  $\angle B = \frac{\pi}{2}$  и  $\alpha = \frac{\pi}{8}$ .

**Четвертое решение (описанная окружность).** Пусть  $P$  – точка пересече-

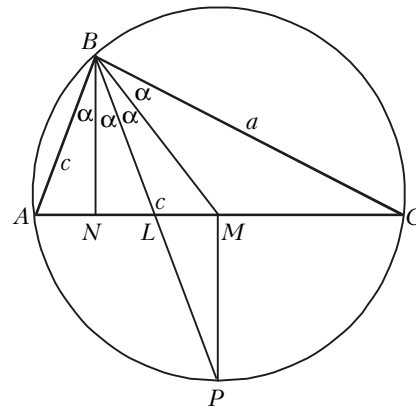


Рис. 14

ния луча  $BL$  с окружностью, описанной около треугольника  $ABC$  (рис.14). Следовательно, точка  $P$  – середина дуги  $AC$ . Поэтому  $MP \perp AC$  и, значит,  $BN \parallel MP$ . Следовательно,

$$\angle MBP = \angle NBL = \angle MPB.$$

Поэтому  $MB = MP$ . Тем самым,  $M$  – точка пересечения серединных перпен-

дикулярных отрезков  $BP$  и  $AC$  и, значит,  $M$  – центр описанной около треугольника  $ABC$  окружности. Поэтому  $AC$  – это диаметр и угол  $ABC$  равен  $\frac{\pi}{2}$ .

**Пятое решение (площадь).** Применяя теорему синусов к треугольнику  $BML$ , имеем

$$\frac{BM}{\sin(90^\circ + \alpha)} = \frac{BL}{\sin(90^\circ - 2\alpha)} = \frac{c}{\cos 2\alpha}.$$

Поэтому

$$BM = \frac{c \cos \alpha}{\cos 2\alpha}.$$

Таким образом,

$$S_{ABC} = 2 \cdot S_{BMC} = BM \cdot BC \cdot \sin \alpha = \frac{c \cos \alpha}{\cos 2\alpha} a \sin \alpha = \frac{ac \operatorname{tg} 2\alpha}{2}.$$

С другой стороны,

$$S_{ABC} = \frac{1}{2} AB \cdot BC \cdot \sin 4\alpha = \frac{ac \sin 4\alpha}{2}.$$

Поэтому

$$\frac{\sin 2\alpha}{\cos 2\alpha} = \operatorname{tg} 2\alpha = \sin 4\alpha = 2 \sin 2\alpha \cos 2\alpha.$$

Отсюда  $\cos^2 2\alpha = \frac{1}{2}$  и, значит,

$$\cos 4\alpha = 2 \cos^2 2\alpha - 1 = 0.$$

Поэтому  $4\alpha = \frac{\pi}{2}$  и  $\alpha = \frac{\pi}{8}$ .

В заключение я хочу принести свою искреннюю благодарность математику из Эссена (Германия) Йоахиму Зукку – благодаря ему я имел возможность ознакомиться с материалами, при помощи которых была написана эта статья.

