

# Законы сохранения в задачах на столкновения

*А. ОВЧИННИКОВ, В. ПЛИС*

В ФИЗИКЕ ПОД СТОЛКНОВЕНИЯМИ понимают процессы кратковременного взаимодействия между телами в широком смысле слова, а не только как соприкосновение тел. Сталкивающиеся тела на большом расстоянии являются свободными. Проходя друг мимо друга, тела взаимодействуют между собой, в результате могут происходить различные процессы – соединение тел, возникновение новых тел и т.п. Наконец, может иметь место *упругое* столкновение, при котором тела после некоторого сближения вновь расходятся без изменения своего внутреннего состояния. Столкновения, приводящие к изменению внутреннего состояния тел, называются *неупругими*.

Происходящие в обычных условиях столкновения обычных тел почти всегда бывают в той или иной степени неупругими – уже хотя бы потому, что они сопровождаются некоторым нагреванием тел, т.е. переходом части их кинетической энергии в тепло. Тем не менее, в физике понятие об упругих столкновениях играет важную роль. В частности, с такими столкновениями приходится иметь дело в физическом эксперименте в области атомных явлений.

Обсудим несколько конкретных задач.

**Задача 1.** Протон, пролетая мимо первоначально покоившегося ядра неизвестного химического элемента, отклонился на угол  $\beta = \arccos(4/15)$ , а

величина скорости протона уменьшилась на 10% (рис. 1). Найдите массовое число химического элемента.

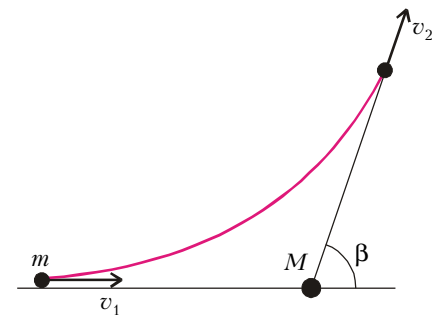


Рис. 1

Взаимодействие частиц упругое; следовательно, импульс и энергия системы сохраняются:

$$m\vec{v}_1 = m\vec{v}_2 + M\vec{v},$$

$$\frac{mv_1^2}{2} = \frac{mv_2^2}{2} + \frac{Mv^2}{2},$$

где  $m$ ,  $v_1$  и  $v_2$  – масса и скорости протона,  $M$  и  $v$  – масса и скорость неизвестного ядра. Из закона сохранения импульса с помощью теоремы косинусов получаем

$$(Mv)^2 = (mv_1)^2 + (mv_2)^2 - 2m^2v_1v_2 \cos \beta.$$

Из двух последних соотношений по-

лучаем искомое массовое число:

$$A = \frac{M}{m} = \frac{1 + k^2 - 2k \cos \beta}{1 - k^2} = 7,$$

$$\text{где } k = \frac{v_2}{v_1} = 0,9.$$

Следовательно, протон столкнулся с ядром лития.

**Задача 2.** Каков максимальный угол  $\theta$  упругого рассеяния  $\alpha$ -частицы в водороде? Масса атома водорода в 4 раза меньше массы  $\alpha$ -частицы.

**Первый способ решения.** Проанализируем упругое столкновение в лабораторной (неподвижной) системе отсчета. Введем обозначения:  $m_1$  – масса  $\alpha$ -частицы,  $\vec{v}$  – ее скорость до рассеяния,  $m_2$  – масса атома водорода,  $\vec{v}_1$  и  $\vec{v}_2$  – скорости  $\alpha$ -частицы и атома водорода, соответственно, после рассеяния.

Взаимодействие упругое; следовательно, сохраняются импульс (рис. 2)

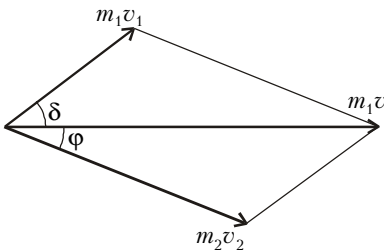


Рис. 2

и кинетическая энергия системы  $\alpha$ -частица – атом водорода:

$$m_1 v = m_1 v_1 \cos \delta + m_2 v_2 \cos \varphi,$$

$$m_1 v_1 \sin \delta = m_2 v_2 \sin \varphi,$$

$$\frac{m_1 v^2}{2} = \frac{m_1 v_1^2}{2} + \frac{m_2 v_2^2}{2}.$$

Исключив из этих соотношений угол  $\varphi$  и скорость  $v_2$ , получим относительно  $v_1$  квадратное уравнение

$$(m_1 + m_2)v_1^2 - 2m_1 v \cos \delta \cdot v_1 + (m_1 - m_2)v^2 = 0.$$

Корни этого уравнения будут вещественными при  $\sin \delta \leq m_2/m_1$ . Максимальный угол  $\delta$ , удовлетворяющий этому условию, и есть искомый угол  $\theta$ . Таким образом,

$$\theta = \arcsin \frac{m_2}{m_1} \approx 0,25 \text{ рад.}$$

Заметим, что рассеяние на максимальный угол возможно только при условии, что масса налетающей частицы больше массы покоящейся.

**Второй способ решения.** В общем случае столкновение удобно рассматривать в системе центра масс сталкивающихся частиц (в системе, где их суммарный импульс равен нулю). Скорость центра масс нашей системы тел равна

$$\vec{V} = \frac{m_1 \vec{v}}{m_1 + m_2}.$$

До столкновения импульс частицы массой  $m_1$  равен

$$\vec{p} = m_1 (\vec{v} - \vec{V}) = \frac{m_1 m_2 \vec{v}}{m_1 + m_2},$$

а импульс частицы массой  $m_2$  равен  $-\vec{p}$ .

При упругом столкновении импульс и энергия взаимодействующей системы тел сохраняются. Так что если импульс первой частицы после столкновения обозначить  $\vec{p}_{\&}$ , то импульс второй будет  $-\vec{p}_{\&}$ . Из закона сохранения энергии, записанном в виде

$$p^2 \left( \frac{1}{m_1} + \frac{1}{m_2} \right) = p_{\&}^2 \left( \frac{1}{m_1} + \frac{1}{m_2} \right),$$

находим

$$p = p_{\&}.$$

Таким образом, единственное, что происходит в рассматриваемой системе при столкновении, это поворот импульсов частиц, т.е. изменение их направления без изменения величины. Вместе с импульсами так же изменяются и скорости обеих частиц. Угол поворота зависит от конкретного характера взаимодействия частиц и от их взаимного расположения при столкновении.

При переходе в лабораторную систему отсчета воспользуемся правилом сложения скоростей. В соответствии с ним, скорость налетающей частицы после столкновения равна

$$\vec{v}_1 = \vec{V} + \vec{v}_{i\&},$$

где  $\vec{v}_{i\&}$  – ее скорость в системе центра масс. На рисунке 3 из одной точки

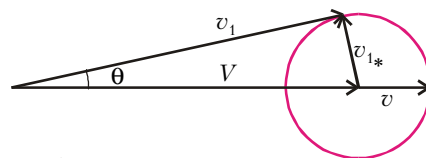


Рис. 3

отложены векторы  $\vec{V}$  – скорость центра масс системы и  $\vec{v}$  – скорость налетающей частицы до столкновения.

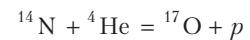
Величина

$$v_{i\&} = \frac{m_2 v}{m_1 + m_2}$$

определяет радиус окружности, на которой заканчивается вектор  $\vec{v}_1$ . Из рисунка следует, что в случае  $m_1 > m_2$  угол между векторами скоростей  $\vec{v}$  и  $\vec{v}_1$  налетающей частицы до и после столкновения не может превышать некоторого максимального значения  $\theta$ , соответствующего случаю, когда  $\vec{v}_1$  касается окружности, т.е.

$$\theta = \arcsin \frac{v_{i\&}}{V} = \frac{m_2}{m_1} \approx 0,25 \text{ рад.}$$

**Задача 3.** Первая искусственная ядерная реакция



наблюдалась Резерфордом в 1919 году. Она идет с поглощением энергии  $Q = 1,13$  МэВ. Какую минимальную кинетическую энергию  $E_{\text{пор}}$  следует сообщить в лабораторной системе отсчета  $\alpha$ -частице, чтобы при бомбардировке неподвижной мишени из азота указанная реакция могла произойти?

Пороговой энергией  $E_{\text{пор}}$ , или порогом ядерной реакции, называют такую энергию налетающей на неподвижную мишень частицы, начиная с которой ядерная реакция становится возможной.

Сначала – небольшое отступление. Найдем связь кинетических энергий  $E_k$  и  $E_{k\&}$  системы материальных точек в лабораторной системе отсчета и в системе центра масс соответственно. По закону сложения скоростей, для каждой  $i$ -й материальной точки

$$\vec{v}_i = \vec{V} + \vec{v}_{i\&},$$

где  $\vec{V}$  – скорость центра масс системы. Тогда кинетическая энергия системы материальных точек в лабораторной системе равна

$$E_k = \sum \frac{m_i v_i^2}{2} = \sum \frac{m_i (\vec{V} + \vec{v}_{i\&})^2}{2} = \sum \frac{m_i V^2}{2} + \sum \frac{m_i v_{i\&}^2}{2} + \vec{V} \sum m_i \vec{v}_{i\&}$$

Сумма  $\sum m_i \vec{v}_{i\&}$  равна нулю, так как она определяет скорость центра масс в системе центра масс. Таким образом,

$$E_k = \frac{MV^2}{2} + E_{k\&},$$

т.е. кинетическая энергия совокупно-

ти материальных точек в лабораторной системе отсчета равна сумме кинетической энергии всей массы системы, мысленно сосредоточенной в ее центре масс и движущейся вместе с ним, и кинетической энергии той же совокупности материальных точек в ее относительном движении в системе центра масс.

Теперь приступим к решению задачи. Обозначим через  $\vec{p}_0$  импульс  $\alpha$ -частицы до столкновения. Кинетическая энергия движения центра масс системы

$$\frac{MV^2}{2} = \frac{p_0^2}{2(m_{\text{He}} + m_{\text{N}})} = \frac{m_{\text{He}}}{m_{\text{He}} + m_{\text{N}}} E_{\text{пор}}$$

не изменяется при ядерной реакции, так как импульс замкнутой системы сохраняется и поэтому указанная энергия не участвует в ядерных превращениях. Тогда искомую энергию найдем из условия

$$E_{\text{пор}} = Q + \frac{m_{\text{He}}}{m_{\text{He}} + m_{\text{N}}} E_{\text{пор}},$$

откуда

$$E_{\text{пор}} = \frac{m_{\text{He}} + m_{\text{N}}}{m_{\text{N}}} Q = 1,45 \text{ МэВ.}$$

Заметим, что минимум кинетической энергии бомбардирующей частицы достигается в случае, когда продукты реакции покоятся в системе центра масс.

**Задача 4.** *Неподвижный невозбужденный атом водорода поглощает фотон. В результате атом переходит в возбужденное состояние и начинает двигаться. Найдите величину  $v$  скорости, с которой стал двигаться атом после поглощения фотона. Энергия возбуждения атома водорода  $E_{12} = 1,63 \cdot 10^{-18}$  Дж, энергия покоя  $mc^2 = 1,49 \cdot 10^{-10}$  Дж.*

*Указание.* При  $x \ll 1$  можно считать, что  $(1+x)^\alpha \approx 1 + \alpha x$ .

**Первый способ решения.** Поглощение фотона атомом является типичным неупругим столкновением. Из законов сохранения энергии:

$$\frac{hc}{\lambda} = E_{12} + \frac{mv^2}{2}$$

и импульса:

$$\frac{h}{\lambda} = mv$$

находим искомую скорость:

$$v = c \left( \sqrt{1 + \frac{2E_{12}}{mc^2}} - 1 \right) \approx c \frac{E_{12}}{mc^2},$$

которая определяется только отноше-

нием энергии возбуждения к энергии покоя атома водорода. При выводе учтено, что в числителе стоит величина, на много порядков меньшая, чем в знаменателе. Это подтверждает нерелятивистское приближение, использованное в решении.

Итак, при переходе атома водорода из основного состояния в первое возбужденное состояние атом начинает двигаться со скоростью

$$v \approx c \frac{E_{12}}{mc^2} \approx 3,3 \text{ м/с.}$$

**Второй способ решения.** При записи законов сохранения энергии и импульса воспользуемся релятивистскими формулами для энергии и импульса:

$$mc^2 + \frac{hc}{\lambda} = \frac{mc^2}{\sqrt{1 - v^2/c^2}},$$

$$\frac{h}{\lambda} = \frac{mv}{\sqrt{1 - v^2/c^2}}.$$

Далее, разделим второе соотношение на первое и получим

$$v = c \frac{hc/\lambda}{mc^2 + hc/\lambda}.$$

Энергия поглощаемого фотона много меньше энергии покоя атома, поэтому выражение можно представить в виде

$$v \approx c \frac{hc/\lambda}{mc^2} = c \frac{E_{12}}{mc^2}.$$

**Задача 5.** *На неподвижный невозбужденный атом водорода налетает другой невозбужденный атом водорода. Какова минимальная кинетическая энергия налетающего атома, при которой в результате столкновения может излучиться фотон? Энергия ионизации атома водорода 13,6 эВ.*

Налетающий атом передаст на ионизацию максимально возможную энергию при таком неупругом столкновении, когда оба атома в системе центра масс будут покоиться. Кинетическая энергия движения центра масс системы, равная

$$\frac{p^2}{2(m_1 + m_2)} = \frac{p^2}{4m_p} = \frac{E_{\text{пор}}}{2}$$

(где  $m_p$  – масса протона, а  $E_{\text{пор}}$  – пороговая энергия), не изменяется при ядерной реакции, так как импульс замкнутой системы сохраняется и поэтому указанная энергия не участвует в ядерных превращениях. Фотон унесет минимальную энергию, если электрон в атоме водорода перейдет с первого уровня на второй. Для этого атом должен поглотить

энергию

$$h\nu_{12} = hR \left( \frac{1}{1} - \frac{1}{4} \right) = \frac{3}{4} hR = \frac{E_{\text{пор}}}{2},$$

где  $R$  – постоянная Ридберга. При ионизации электрон переходит с первого уровня на бесконечность; следовательно, энергия ионизации

$$E_{\text{и}} = hR.$$

Из полученных соотношений находим

$$E_{\text{пор}} = \frac{3}{2} E_{\text{и}} = 20,4 \text{ эВ.}$$

**Задача 6.** *Рентгеновский фотон сталкивается с неподвижным электроном и отражается в обратном направлении. Найдите приращение длины волны фотона в результате рассеяния.*

При энергиях в сотни тысяч электронвольт необходим учет релятивистских эффектов. Законы сохранения энергии и импульса принимают вид

$$mc^2 + \frac{hc}{\lambda_0} = \frac{mc^2}{\sqrt{1 - v^2/c^2}} + \frac{hc}{\lambda},$$

$$\frac{h}{\lambda_0} = -\frac{h}{\lambda} + \frac{mv}{\sqrt{1 - v^2/c^2}},$$

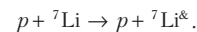
где  $m$  – масса электрона,  $\lambda_0$  и  $\lambda$  – длины волн фотона. Умножим второе равенство на  $c$ , сложим его с первым и вычтем его из первого равенства. Перемножив полученные соотношения, найдем

$$\Delta\lambda = \lambda - \lambda_0 = 2 \frac{h}{mc} = 4,84 \cdot 10^{-12} \text{ м.}$$

Заметим, что это вполне согласуется с экспериментальными данными.

**Упражнения**

**1.** Ядро лития возбуждается пучком протонов, падающим на неподвижную литиевую мишень. При этом происходит реакция



При каких отношениях энергии налетающего протона к энергии возбуждения лития возможно возникновение протонов, движущихся в обратном к потоку направлении?

**2.** На неподвижный невозбужденный атом водорода налетает электрон. Какова минимальная кинетическая энергия  $E_{\text{пор}}$  налетающего электрона, при которой в результате столкновения может излучаться фотон? Энергия ионизации атома водорода  $E_{\text{и}} = 13,6$  эВ.

**3.** Рентгеновский фотон сталкивается с неподвижным электроном и отражается в перпендикулярном направлении. Найдите приращение длины волны фотона в результате рассеяния.